

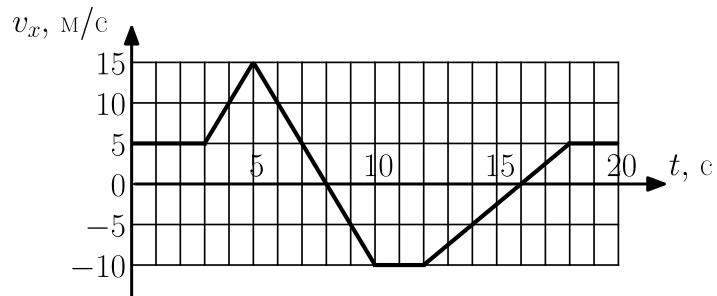
Вариант #20

Часть 1

Ответами к заданиям 1-20 являются число или последовательность цифр. Ответ запишите в поле ответа в тексте работы, а затем перенесите в БЛАНК ОТВЕТОВ № 1 справа от номера соответствующего задания, начиная с первой клеточки. Каждый символ пишите в отдельной клеточке в соответствии с приведёнными в бланке образцами. Единицы измерения физических величин писать не нужно.

1

На рисунке приведён график зависимости проекции v_x скорости тела от времени t .



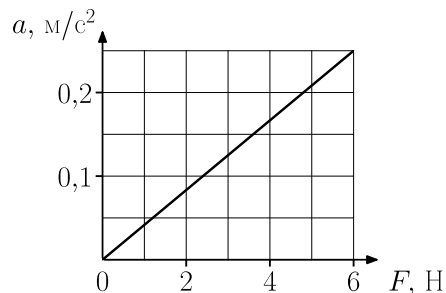
Определите проекцию a_x ускорения этого тела в интервале времени от 8 до 10 с. Ответ запишите с учётом знака проекции.

Ответ: _____ м/с²

2

На графике приведена зависимость ускорения бруска, скользящего без трения по горизонтальной поверхности, от величины приложенной к нему горизонтальной силы. Систему отсчёта считать инерциальной. Чему равна масса бруска?

Ответ: _____ кг



3

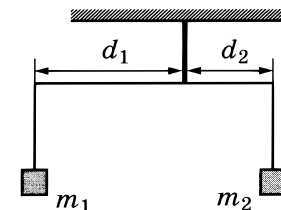
Тело массой 600 г, брошенное вертикально вверх с поверхности Земли, поднялось на максимальную высоту, равную 8 м. Какой кинетической энергией обладало тело в момент броска? Сопротивлением воздуха пренебречь.

Ответ: _____ Дж

4

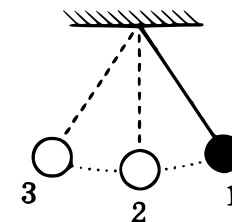
Коромысло весов, к которому подвешены на нитях два груза (см. рисунок), находится в равновесии. Массу первого груза увеличили в 2 раза. Во сколько раз нужно уменьшить плечо d_1 , чтобы равновесие сохранилось? (Коромысло и нити считать невесомыми.)

Ответ: в _____ раз(а)



5

Математический маятник с частотой свободных колебаний 0,5 Гц отклонили на небольшой угол от положения равновесия в положение 1 и отпустили из состояния покоя (см. рисунок). Сопротивлением воздуха пренебречь. Потенциальная энергия маятника отсчитывается от положения равновесия. Из приведённого ниже списка выберите все верные утверждения, описывающие процесс колебаний маятника.



1. Потенциальная энергия маятника в первый раз достигнет своего максимума через 2 с после начала движения.
2. Через 0,5 с маятник первый раз вернётся в положение 1.
3. При движении из положения 2 в положение 3 полная механическая энергия маятника остаётся неизменной.
4. Кинетическая энергия маятника в первый раз достигнет своего максимума через 0,5 с после начала движения.
5. При движении из положения 3 в положение 2 модуль силы натяжения нити уменьшается.

Ответ: _____

6

Космический исследовательский зонд обращается по круговой орбите вокруг Марса. В результате перехода на другую круговую орбиту центростремительное ускорение зонда увеличилось. Как изменились при этом переходе скорость зонда и период обращения зонда вокруг Марса?

Для каждой величины определите соответствующий характер изменения:

1. увеличивается
2. уменьшается
3. не изменяется

Запишите в таблицу выбранные цифры для каждой физической величины. Цифры в ответе могут повторяться.

Скорость зонда	Период обращения зонда

7

Концентрация молекул разреженного газа в сосуде была увеличена вдвое, а абсолютная температура газа — уменьшена в 4 раза. Во сколько раз при этом уменьшилось давление газа?

Ответ: в _____ раз(а)

8

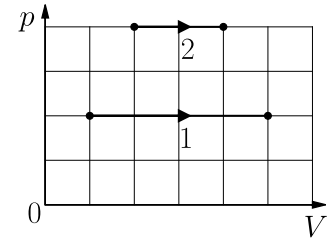
Газ получил количество теплоты, равное 300 Дж, при этом внутренняя энергия газа уменьшилась на 100 Дж. Масса газа не менялась. Какую работу совершил газ в этом процессе?

Ответ: _____

9

На pV -диаграмме показаны два процесса, проведённые с одним и тем же количеством газообразного неона (где p — давление неона, V — его объём).

Из приведённого ниже списка выберите все верные утверждения, характеризующие процессы на рисунке.



1. В процессе 2 абсолютная температура неона изобарно увеличилась в 2 раза.
2. В процессе 1 плотность неона увеличилась в 5 раз.
3. Работа, совершённая неонем, в обоих процессах одинакова.
4. В процессе 1 объём неона изобарно увеличился в 4 раза.
5. В процессе 2 концентрация молекул неона увеличилась в 2 раза.

Ответ: _____

10

В сосуде неизменного объёма находилась при комнатной температуре смесь двух идеальных газов, по 1 моль каждого. Половину содержимого сосуда выпустили, а затем добавили в сосуд 1 моль первого газа. Как изменились в результате парциальное давление первого газа и суммарное давление газов, если температура в сосуде поддерживалась неизменной?

Для каждой величины определите соответствующий характер изменения:

1. увеличивается
2. уменьшается
3. не изменяется

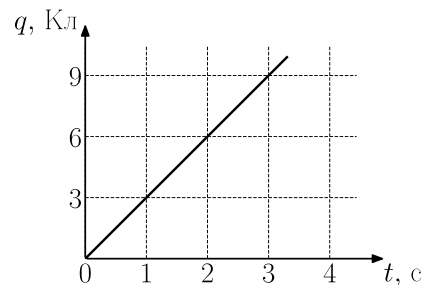
Запишите в таблицу выбранные цифры для каждой физической величины. Цифры в ответе могут повторяться.

Парциальное давление первого газа	Давление смеси газов

11

По проводнику течёт постоянный электрический ток. Заряд, прошедший по проводнику, растёт с течением времени согласно представленному графику (см. рисунок). Определите силу тока в проводнике.

Ответ: _____ А



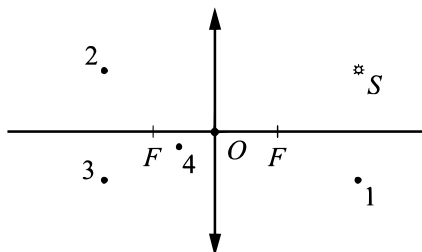
12

Две частицы с одинаковыми массами и зарядами q и $2q$ влетают в однородное магнитное поле перпендикулярно вектору магнитной индукции со скоростями v и $2v$ соответственно. Определите отношение модулей сил $\frac{F_1}{F_2}$, действующих на них со стороны магнитного поля.

Ответ: _____

13

Какая из точек (1, 2, 3 или 4) является изображением точечного источника S , создаваемым тонкой собирающей линзой с фокусным расстоянием F (см. рисунок)?



Ответ: точка _____

14

По гладким параллельным горизонтальным проводящим рельсам, замкнутым на лампочку накаливания, перемещают лёгкий тонкий проводник. Образовавшийся контур $KLMN$ находится в однородном вертикальном магнитном поле с индукцией \vec{B} (рис. а). При движении проводника площадь контура изменяется так, как указано на графике (рис. б). Выберите все верные утверждения, соответствующие приведённым данным и описанию опыта.

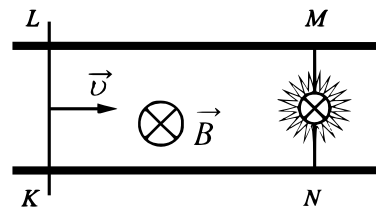


Рис. а

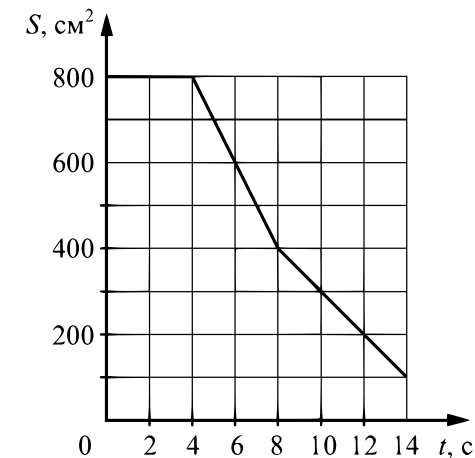


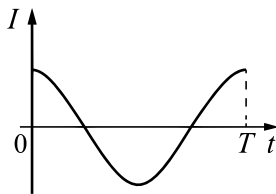
Рис. б

1. В течение первых 6 с индукционный ток течёт через лампочку непрерывно.
2. В интервале времени от 0 до 4 с лампочка горит наиболее ярко.
3. В момент времени $t = 2$ с сила Ампера, действующая на проводник, направлена влево.
4. Максимальная ЭДС наводится в контуре в интервале времени от 4 до 8 с.
5. Индукционный ток в интервале времени от 6 до 12 с течёт в одном направлении.

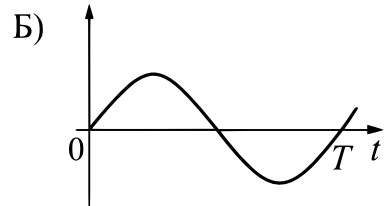
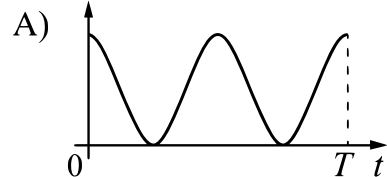
Ответ: _____

15

На рисунке приведён график зависимости силы тока от времени в катушке индуктивности идеального колебательного контура. Графики А и Б представляют изменения физических величин, характеризующих свободные электромагнитные колебания в контуре. Установите соответствие между графиками и физическими величинами, зависимость которых от времени эти графики могут представлять. К каждой позиции первого столбца подберите соответствующую позицию из второго столбца и запишите в таблицу выбранные цифры под соответствующими буквами.



ГРАФИКИ



ФИЗИЧЕСКИЕ ВЕЛИЧИНЫ

- 1) индуктивность катушки
- 2) напряжение на обкладках конденсатора
- 3) энергия электрического поля конденсатора
- 4) энергия магнитного поля катушки

Ответ:

А	Б

16

Ядро платины ${}_{78}^{174}\text{Pt}$ испытывает α -распад, при этом образуются α -частица и ядро химического элемента ${}_{Z}^AX$. Определите заряд Z (в единицах элементарного заряда) ядра X .

Ответ: _____

17

Монохроматический свет с энергией фотонов $E_{\text{ф}}$ падает на поверхность металла, вызывая фотоэффект. При этом напряжение, при котором фототок прекращается, равно $U_{\text{зат}}$. Как изменится длина волны λ падающего света и модуль запирающего напряжения $U_{\text{зат}}$, если энергия падающих фотонов $E_{\text{ф}}$ увеличится?

Для каждой величины определите соответствующий характер изменения:

1. увеличивается
2. уменьшается
3. не изменяется

Запишите в таблицу выбранные цифры для каждой физической величины. Цифры в ответе могут повторяться.

Длина волны λ падающего света	Модуль запирающего напряжения $U_{\text{зат}}$

18

Выберите все верные утверждения о физических явлениях, величинах и закономерностях.

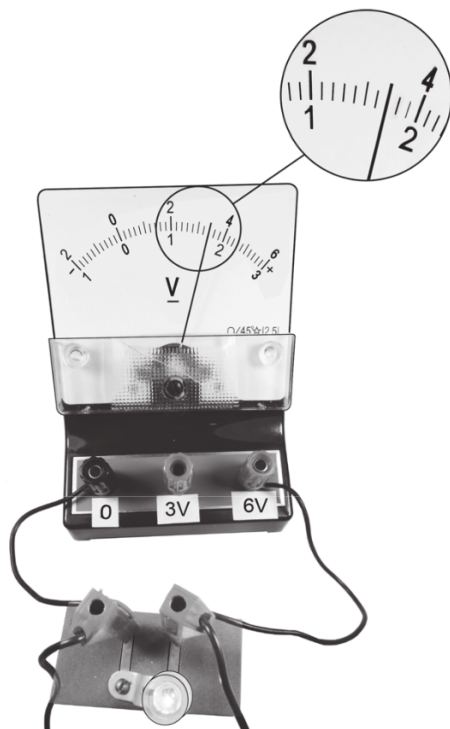
1. При вынужденных механических колебаниях в колебательной системе резонанс возникает в том случае, если собственная частота колебаний системы совпадает с частотой изменения внешней силы.
2. В процессе изохорного нагревания постоянной массы газа давление газа уменьшается.
3. Поверхность проводника, находящегося в электростатическом поле, является эквипотенциальной.
4. При прохождении монохроматической световой волны через границу раздела двух оптически прозрачных сред с разными показателями преломления изменяются скорость волны и длина волны, а её частота остаётся неизменной.
5. При β -распаде ядра выполняются законы сохранения энергии и электрического заряда, но не выполняется закон сохранения импульса.

Ответ: _____

19

Определите напряжение на лампочке (см. рисунок), если абсолютная погрешность прямого измерения напряжения равна цене деления вольтметра.

Ответ: (_____ ± _____)



В бланк ответов № 1 перенесите только числа, не разделяя их пробелом или другим знаком.

20

Необходимо на опыте обнаружить зависимость объёма газа, находящегося в сосуде под подвижным поршнем, от внешнего давления. Имеются пять различных сосудов с манометрами. Сосуды наполнены одним и тем же газом при различных температурах и давлениях (см. таблицу). Какие **два** сосуда необходимо взять ученику, чтобы провести исследование?

№ сосуда	Давление, кПа	Температура газа в сосуде, °C	Масса газа, г
1	60	80	10
2	100	100	10
3	80	60	5
4	90	80	15
5	100	60	5

В ответ запишите номера выбранных сосудов.

Ответ: _____

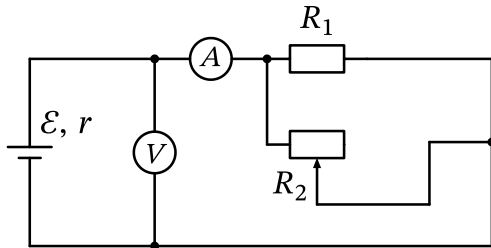
Не забудьте перенести все ответы в бланк ответов № 1 в соответствии с инструкцией по выполнению работы. Проверьте, чтобы каждый ответ был записан в строке с номером соответствующего задания.

Часть 2

Для записи ответов на задания 21-26 используйте БЛАНК ОТВЕТОВ № 2. Запишите сначала номер задания (24, 25 и т.д.), а затем решение соответствующей задачи. Ответы записывайте чётко и разборчиво.

21

На рисунке показана принципиальная схема электрической цепи, состоящей из источника тока с отличным от нуля внутренним сопротивлением, резистора, реостата и измерительных приборов — идеального амперметра и идеального вольтметра. Как будут изменяться показания приборов при перемещении движка реостата вправо? Ответ поясните, указав, какие физические закономерности Вы использовали для объяснения.



Полное правильное решение каждой из задач 22-26 должно содержать законы и формулы, применение которых необходимо и достаточно для решения задачи, а также математические преобразования, расчёты с численным ответом и при необходимости рисунок, поясняющий решение.

22

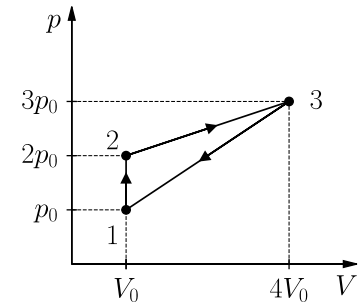
Плоская льдина плавает в воде, выступая над её поверхностью на высоту $h = 0,02$ м. Определите массу льдины, если её площадь $S = 2500$ см². Плотность льда равна 900 кг/м³.

23

В стакан калориметра, содержащий 250 г воды, опустили кусок льда массой 140 г, имевшего температуру 0 °С. После того как наступило тепловое равновесие, весь лёд растаял, и температура воды стала равной 0 °С. Определите начальную температуру воды. Теплоёмкостью калориметра и теплообменом с окружающей средой пренебречь.

24

На рисунке изображена зависимость давления p идеального одноатомного газа от занимаемого им объема V . Определите температуру T_2 во второй точке, если количество теплоты, полученное газом от нагревателя за цикл, равняется 120 кДж. Количество вещества газа равно 4 моль.



25

К резистору сопротивлением $R = 0,05$ Ом подключены горизонтальные параллельные проводящие рельсы. Система находится в вертикальном магнитном поле с индукцией $B = 0,1$ Тл. На рельсах перпендикулярно им лежит проводящая перемычка массой $m = 370$ г и длиной $\ell = 1$ м. Под действием горизонтальной силы F перемычка без потери контакта равномерно скользит вдоль рельсов со скоростью $v = 2$ м/с. Найдите величину силы F , если коэффициент трения между перемычкой и рельсами $\mu = 0,2$. Сделайте чертёж с указанием сил, действующих на перемычку. Сопротивлением рельсов и перемычки пренебречь.

26

Снаряд массой 4 кг, летящий со скоростью 400 м/с, разрывается на две равные части, одна из которых летит в направлении движения снаряда, а другая — в противоположную сторону. В момент разрыва суммарная кинетическая энергия осколков увеличивается на 0,5 МДж. Найдите скорость осколка, летящего по направлению движения снаряда. Сопротивлением воздуха пренебречь. Обоснуйте применимость законов, используемых для решения задачи.

Проверьте, чтобы каждый ответ был записан рядом с номером соответствующего задания.